

V Pola figur

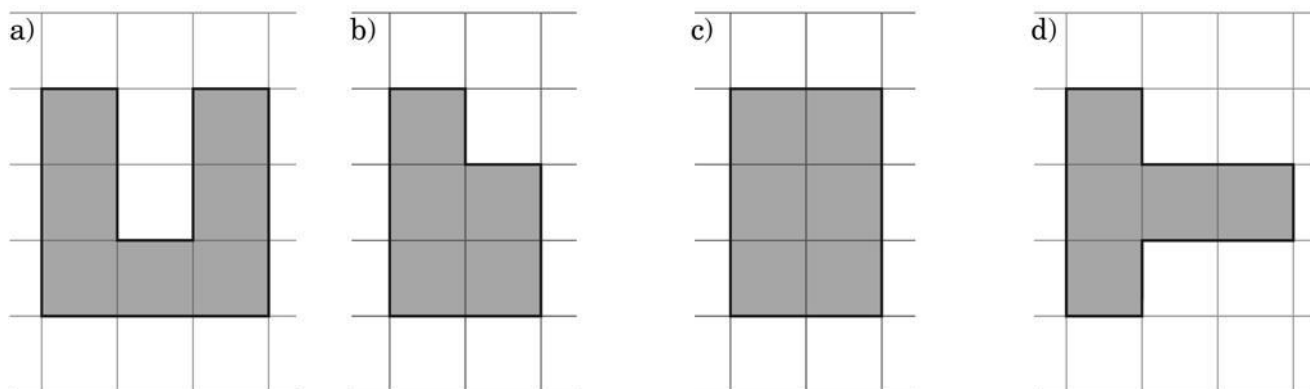
Pole figury – karta pracy V.1.1

Wykonaj polecenia. ►

Uwaga. Poprawna odpowiedź **musi** zawierać odpowiednie jednostki!

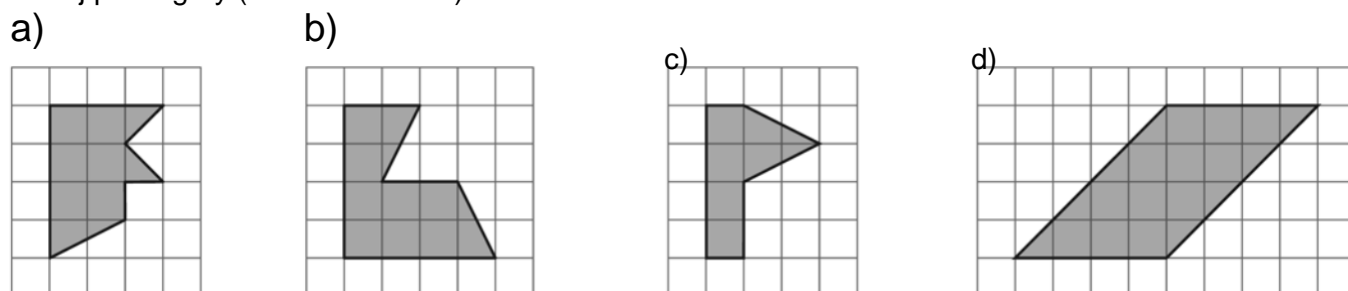
Poziom A

Bok kratki ma 1 cm, podaj pole figury.



Poziom B

Podaj pole figury. (2 kratki to 1 cm)



Poziom C

Oblicz pole i obwód prostokąta o podanych bokach.

- | | |
|------------------|------------------|
| a) 5 cm i 3,4 cm | d) 7,5 cm i 4 cm |
| b) 8 cm i 6 cm | e) 4,7 cm i 3 cm |
| c) 12 cm i 12 cm | f) 11 cm i 16 cm |

Poziom D

Oblicz pole i obwód prostokąta o podanych bokach.

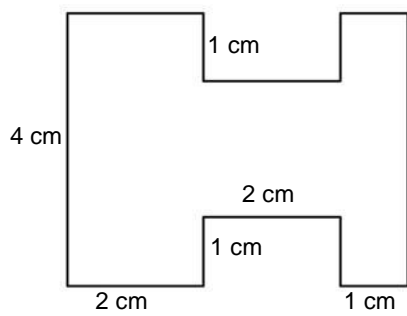
Pamiętaj o zamianie jednostek

- | | |
|------------------|------------------|
| a) 7 mm i 4,3 cm | d) 2 cm i 9 mm |
| b) 3 dm i 8 mm | e) 4,5 dm i 6 cm |
| c) 5 dm i 5 cm | f) 3 m i 8 cm |

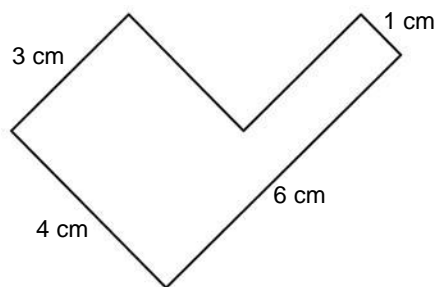
Mistrz

Oblicz pole figury. Dla chętnych.

a)



b)



c)

